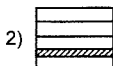


Доли. Обыкновенные дроби

Вариант 1

Часть А

A1 На каком рисунке заштрихована $\frac{1}{5}$ фигуры



A2 Какая часть фигуры заштрихована?



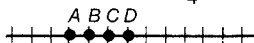
1) 7

2) $\frac{3}{10}$

3) $\frac{7}{10}$

4) $\frac{10}{7}$

A3 Какая точка имеет координату, равную $\frac{3}{4}$?



1) A

2) B

3) C

4) D

A4 Выразите в минутах 4 сек.

1) $\frac{1}{4}$

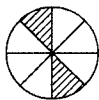
2) $\frac{1}{60}$

3) $\frac{4}{100}$

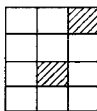
4) $\frac{4}{60}$

Часть В

B1 Для каждого рисунка



A



Б



В

укажите, какая часть рисунка заштрихована, вписав в таблицу под каждой буквой соответствующий ей номер ответа.

1) $\frac{1}{6}$

2) $\frac{1}{2}$

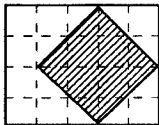
3) $\frac{1}{4}$

Ответ:

A	Б	В

При записи ответа в бланк в клеточку под номером B1 следует писать только цифры в той последовательности, в которой они записаны в таблице.

B2 Какая часть прямоугольника заштрихована?

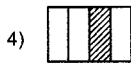


Ответ: _____ .

Вариант 2

Часть А

A1 На каком рисунке заштрихована $\frac{1}{4}$ часть фигуры?



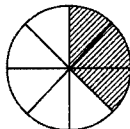
A2 Какая часть фигуры заштрихована?

1) $\frac{8}{3}$

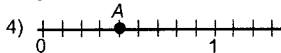
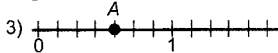
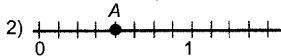
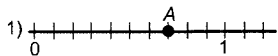
2) $\frac{3}{8}$

3) 3

4) $\frac{5}{8}$



A3 На каком рисунке точка А имеет координату, равную $\frac{4}{7}$?



A4 Выразите в тоннах 3 ц.

1) $\frac{3}{100}$

2) $\frac{3}{10}$

3) $\frac{3}{1000}$

4) $\frac{1}{3}$

Часть В

B1 Для каждого рисунка



А



Б



В

укажите, какая часть рисунка заштрихована, вписав в таблицу под каждой буквой соответствующий ей номер ответа.

1) $\frac{1}{4}$

2) $\frac{1}{2}$

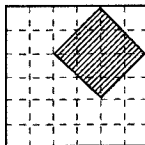
3) $\frac{1}{3}$

Ответ:

А	Б	В

При записи ответа в бланк в клеточку под номером В1 следует писать только цифры в той последовательности, в которой они записаны в таблице.

B2 Какая часть прямоугольника заштрихована?



Ответ: _____ .