

Десятичная запись дробных чисел

Вариант 1

Часть А

A1 Представьте в виде обыкновенной дроби 1,043.

1) $\frac{143}{1000}$

2) $\frac{43}{10000}$

3) $1\frac{43}{1000}$

4) $1\frac{43}{100}$

A2 Запишите цифрами десятичную дробь ноль целых тридцать семь тысячных.

1) 0,37

2) 0,00037

3) 0,0037

4) 0,037

A3 В каком разряде числа 6,4325 записана цифра 5?

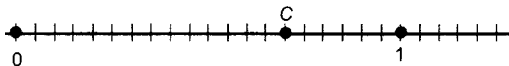
1) десятичных

2) сотых

3) десятых

4) тысячных

A4 Какую координату имеет точка С?



1) 0,14

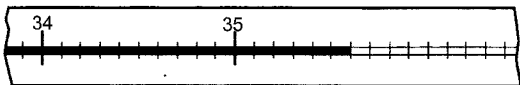
2) 7

3) 14

4) 0,7

Часть В

B1 Прочитайте показания термометра



Ответ: _____.

B2 Найдите 0,7 от 210 кг.

Ответ: _____ кг.

Вариант 2**Часть А****A1**Запишите в виде десятичной дроби число $1\frac{13}{10000}$.

- 1) 1,013
- 2) 1,00013
- 3) 1,13
- 4) 1,0013

A2

Как читается число 5,007?

- 1) пять целых семь десятых
- 2) пять целых семь тысячных
- 3) пять целых семь сотых
- 4) пять целых семь десятитысячных

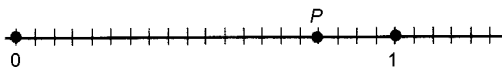
A3

В каком разряде числа 34,2167 записана цифра 6?

- 1) сотых
- 2) десятитысячных
- 3) тысячных
- 4) десятых

A4

Какую координату имеет точка P?



- 1) 0,8
- 2) 0,16
- 3) 8
- 4) 16

Часть В**B1**

Прочитайте показания термометра



Ответ: _____.

B2

Найдите 0,9 от 360 кг.

Ответ: _____ кг.